

联想 2010 校园招聘讨论区 <http://lenovo.dajie.com/>

在线计算能力筛选测试 - Windows Internet Explorer

http://www.ert.shlsolutions.com/player/InstrumentPlayer.aspx?candidate_id=2568075&GuiId=58B8E61E-F815

练习测试

测试进程

剩余分钟数 00

shl PEOPLE PERFORMANCE

1998 年欧洲通货膨胀指数 (在第 1 季度将基数重设为 100)

季度	零售 (%)	收入 (%)	批发 (%)	食品 (%)
第 1 季度	100	100	100	100
第 2 季度	102	101	98	97
第 3 季度	102	102	99	95
第 4 季度	103	103	99	94

问题 1

如果第一季度收入的通货膨胀指数 (重设基数前) 为 120, 那么第二季度的通胀指数为多少?

- 121.0
- 121.2
- 121.4
- 121.6
- 以上都不是

帮助 下一步

© SHL Group plc 2005

完成

开始

在线计算能力筛选测试 - Windows Internet Explorer

http://www.ert.shlsolutions.com/player/InstrumentPlayer.aspx?candidate_id=2568075&GuiId=58B8E61E-F815

练习测试

测试进程

剩余分钟数 00

shl PEOPLE PERFORMANCE

1998 年欧洲通货膨胀指数 (在第 1 季度将基数重设为 100)

季度	零售 (%)	收入 (%)	批发 (%)	食品 (%)
第 1 季度	100	100	100	100
第 2 季度	102	101	98	97
第 3 季度	102	102	99	95
第 4 季度	103	103	99	94

问题 2

如果第二季度的家庭食品支出平均为 100 欧元, 那么第三季度的该支出为多少?

- 95 欧元
- 97 欧元
- 99 欧元
- 101 欧元
- 无法回答

帮助 下一步

© SHL Group plc 2005

完成

开始

在线计算能力筛选测试 - Windows Internet Explorer

http://www.ert.shlsolutions.com/player/InstrumentPlayer.aspx?candidate_id=2568075&GuiId=58B8E61E-F815

练习测试

测试进程

剩余分钟数 00

shl PEOPLE PERFORMANCE

1998 年欧洲通货膨胀指数 (在第 1 季度将基数重设为 100)

季度	零售 (%)	收入 (%)	批发 (%)	食品 (%)
第 1 季度	100	100	100	100
第 2 季度	102	101	98	97
第 3 季度	102	102	99	95
第 4 季度	103	103	99	94

问题 2

如果第二季度的家庭食品支出平均为 100 欧元, 那么第三季度的该支出为多少?

- 95 欧元
- 97 欧元
- 99 欧元
- 101 欧元
- 无法回答

帮助 下一步

© SHL Group plc 2005

完成

开始

在线计算能力筛选测试 - Windows Internet Explorer

http://www.ert.shlsolutions.com/player/InstrumentPlayer.aspx?candidate_id=2568075&GuiId=58B8E61E-F815

练习测试

测试进程

剩余分钟数 00

shl PEOPLE PERFORMANCE

1998 年欧洲通货膨胀指数 (在第 1 季度将基数重设为 100)

季度	零售 (%)	收入 (%)	批发 (%)	食品 (%)
第 1 季度	100	100	100	100
第 2 季度	102	101	98	97
第 3 季度	102	102	99	95
第 4 季度	103	103	99	94

问题 2

如果第二季度的家庭食品支出平均为 100 欧元, 那么第三季度的该支出为多少?

- 95 欧元
- 97 欧元
- 99 欧元
- 101 欧元
- 无法回答

帮助 下一步

© SHL Group plc 2005

在线计算能力筛选测试 - Windows Internet Explorer

http://www.ort.shlsolutions.com/player/InstrumentPlayer.aspx?candidate_id=2568075&GuiId=58B8E61E-F815

测试进程 剩余分钟数 00

1998 年欧洲通货膨胀指数
(在第 1 季度将基数重设为 100)

季度	零售	收入	批发	食品
第 1 季度	100	100	100	100
第 2 季度	102	101	98	97
第 3 季度	102	102	100	95
第 4 季度	103	103	100	94

问题 3
在整个通货膨胀期间，哪个季度的收入增长百分比最大？

第二
 第三
 第四
 都一样
 无法回答

帮助 下一步

SHL Group plc 2005

完成

开始

在线计算能力筛选测试 - Windows Internet Explorer

http://www.ort.shlsolutions.com/player/InstrumentPlayer.aspx?candidate_id=2568075&GuiId=58B8E61E-F815

测试进程 剩余分钟数 00

1998 年欧洲通货膨胀指数
(在第 1 季度将基数重设为 100)

季度	零售	收入	批发	食品
第 1 季度	100	100	100	100
第 2 季度	102	101	98	97
第 3 季度	102	102	100	95
第 4 季度	103	103	100	94

问题 4
如果第三季度的通货膨胀指数将基数重设为 100，那么在第四季度食品通货膨胀指数为多少？

$(94/100)*100$
 $(94/97.5)*100$
 $(94/95)*100$
 $(100/94)*100$
 无法回答

帮助 下一步

SHL Group plc 2005

完成

开始

在线计算能力筛选测试 - Windows Internet Explorer

Internet 100%

12:41

在线计算能力筛选测试 - Windows Internet Explorer

http://www.ort.shlsolutions.com/player/InstrumentPlayer.aspx?candidate_id=2568075&GuiId=58B8E61E-F815

shl PEOPLE PERFORMANCE

测试进程  剩余分钟数 **00**

埃塞俄比亚经济概况				
	1997年	1998年	1999年	2000年
国内生产总值 (100,000万美元)	60.50	50.60	58.08	64.81
人口人均国内生产总值 (美元)	1,100	880	968	997
人均国内生产总值的增长 (年增长百分率)	11.0%	-20.0%	10.0%	3.0%
失业率 (劳动人口比例)	7.9%	12.5%	10.0%	8.5%

问题 5
2000年埃塞俄比亚的人口是多少?

5500万
 6500万
 7500万
 8500万
 9500万

帮助 

© SHL Group plc 2005

完成 Internet 100%

开始 在线计算能力筛选... 新建 Microsoft W...

在线计算能力筛选测试 - Windows Internet Explorer

http://www.ort.shlsolutions.com/player/InstrumentPlayer.aspx?candidate_id=2568075&GuiId=58B8E61E-F815

shl PEOPLE PERFORMANCE

测试进程  剩余分钟数 **00**

埃塞俄比亚经济概况				
	1997年	1998年	1999年	2000年
国内生产总值 (100,000万美元)	60.50	50.60	58.08	64.81
人口人均国内生产总值 (美元)	1,100	880	968	997
人均国内生产总值的增长 (年增长百分率)	11.0%	-20.0%	10.0%	3.0%
失业率 (劳动人口比例)	7.9%	12.5%	10.0%	8.5%

问题 6
如果劳动力人口的比例是 60%，那么 1999 年的失业人口是多少?

3,200,000
 3,300,000
 3,400,000
 3,500,000
 以上都不是

帮助 

© SHL Group plc 2005

完成 Internet 100%

开始 在线计算能力筛选... 新建 Microsoft W...

在线计算能力筛选测试 - Windows Internet Explorer

http://www.ort.shlsolutions.com/player/InstrumentPlayer.aspx?candidate_id=2568075&GuiId=58B8E61E-F815

shl PEOPLE PERFORMANCE

测试进程  剩余分钟数 **00**

埃塞俄比亚经济概况				
	1997年	1998年	1999年	2000年
国内生产总值 (100,000万美元)	60.50	50.60	58.08	64.81
人口人均国内生产总值 (美元)	1,100	880	968	997
人均国内生产总值的 增长 (年增长百分率)	11.0%	-20.0%	10.0%	3.0%
失业率 (劳动人口比例)	7.9%	12.5%	10.0%	8.5%


问题 7
和 1998 年相比, 1999 年的国内生产总值的增长率是多少?

11.2%
 14.8%
 17.3%
 21.8%
 25.3%

帮助 

© SHL Group plc 2005


完成

开始  12:44

在线计算能力筛选测试 - Windows Internet Explorer

http://www.ort.shlsolutions.com/player/InstrumentPlayer.aspx?candidate_id=2568075&GuiId=58B8E61E-F815


shl PEOPLE PERFORMANCE

测试进程  剩余分钟数 **00**

埃塞俄比亚经济概况				
	1997年	1998年	1999年	2000年
国内生产总值 (100,000万美元)	60.50	50.60	58.08	64.81
人口人均国内生产总值 (美元)	1,100	880	968	997
人均国内生产总值的 增长 (年增长百分率)	11.0%	-20.0%	10.0%	3.0%
失业率 (劳动人口比例)	7.9%	12.5%	10.0%	8.5%

问题 8
如果劳动力人口占总人口的比例是 55%, 那么 1997 年的劳动力人口的人均国内生产总值是多少?

250美元
 500美元
 1,000美元
 2,000美元
 无法回答

帮助 

© SHL Group plc 2005

完成

开始  12:44

D

在线计算能力筛选测试 - Windows Internet Explorer

http://www.ort.shlsolutions.com/player/InstrumentPlayer.aspx?Candidate_ID=2568075&GuiId=6AC2A62E-F14C

实际测试 在线计算能力筛选测试

shl PEOPLE PERFORMANCE

测试进程 剩余分钟数 21

预计消费品进口



年份	美国 (百万欧元)	英国 (百万欧元)
Y	450	90
Y+1	420	80
Y+2	350	80
Y+3	330	70
Y+4	300	60

Y 年的汇率
美元 1.65 = £1 英镑
欧元 1.55 = £1 英镑

问题 1
假设汇率保持不变，Y + 2 年两国消费品进口总额预计是多少（以100万欧元计）？

40000万欧元
 40400万欧元
 40800万欧元
 41200万欧元
 无法回答

帮助 下一步

© SHL Group plc 2005

完成 Internet 100%

开始 在线计算能力筛选... 新建 Microsoft W...

在线计算能力筛选测试 - Windows Internet Explorer

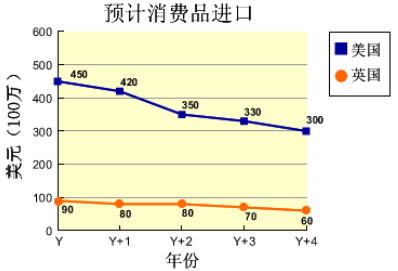
http://www.ort.shlsolutions.com/player/InstrumentPlayer.aspx?Candidate_ID=2568075&GuiId=6AC2A62E-F14C

实际测试 在线计算能力筛选测试

shl PEOPLE PERFORMANCE

测试进程 剩余分钟数 20

预计消费品进口



年份	美国 (百万欧元)	英国 (百万欧元)
Y	450	90
Y+1	420	80
Y+2	350	80
Y+3	330	70
Y+4	300	60

Y 年的汇率
美元 1.65 = £1 英镑
欧元 1.55 = £1 英镑

问题 2
Y + 4 年，美国消费品进口与英国的比例预计是多少？

2:1
 3:1
 4:1
 5:1
 无法回答

帮助 下一步

© SHL Group plc 2005

完成 Internet 100%


开始 在线计算能力筛选... 新建 Microsoft W...

在线计算能力筛选测试 - Windows Internet Explorer

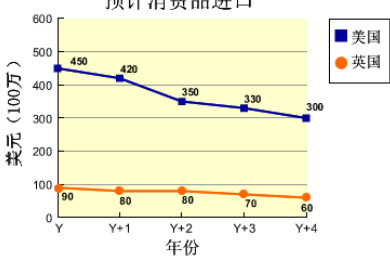
http://www.ort.shlsolutions.com/player/InstrumentPlayer.aspx?Candidate_ID=2568075&GuiId=6AC2A62E-F14C

实际测试 在线计算能力筛选测试

shl PEOPLE PERFORMANCE

测试进程  剩余分钟数 **20**


预计消费品进口



Y 年的汇率
美元 1.65 = £1 英镑
欧元 1.55 = £1 英镑

问题 3
如果以欧元而不是美元计算，美国的进口额是英国的几倍？

1
 3
 5
 7
 以上都不是

帮助 

© SHL Group plc 2005

完成 Internet 100% 12:53


开始 在线计算能力筛选... 新建 Microsoft W...

在线计算能力筛选测试 - Windows Internet Explorer

http://www.ort.shlsolutions.com/player/InstrumentPlayer.aspx?Candidate_ID=2568075&GuiId=6AC2A62E-F14C

实际测试 在线计算能力筛选测试

shl PEOPLE PERFORMANCE


测试进程  剩余分钟数 **19**

截止本财年年度的公司数据

	Hardlow 上市公司	GRT 上市公司	Xiang 公司	IKO 公司	Aurore 公司
营业额 (100万英镑)	11.4	160.7	2.3	7.3	60.0
利润 (100万英镑)	9.2	-33.9	-1.9	3.0	9.3
资产 (100万英镑)	42.3	640.1	25.2	27.1	130.1
债务 (100万英镑)	9.7	341.0	1.7	8.2	30.8
股价 (便士)	108.0	172.1	6.0	11.3	48.7
股数 (100万)	0.5	2.7	0.9	3.2	7.2

问题 4
哪家公司的每股资产额最高？

Hardlow 上市公司
 GRT 上市公司
 Xiang 公司
 IKO 公司
 Aurore 公司

帮助 

© SHL Group plc 2005

完成 Internet 100% 12:53

开始 在线计算能力筛选... 新建 Microsoft W...

在线计算能力筛选测试 - Windows Internet Explorer

http://www.ort.shlsolutions.com/player/InstrumentPlayer.aspx?Candidate_ID=2568075&GuiId=6AC2A62E-F14C

shl PEOPLE PERFORMANCE

测试进程 剩余分钟数 19

截止本财年年度的公司数据					
	Hardlow 上市公司	GRT 上市公司	Xiang 公司	IKO 公司	Aurore 公司
营业额 (100万英镑)	11.4	160.7	2.3	7.3	60.0
利润 (100万英镑)	9.2	-33.9	-1.9	3.0	9.3
资产 (100万英镑)	42.3	640.1	25.2	27.1	130.1
债务 (100万英镑)	9.7	341.0	1.7	8.2	30.8
股价 (便士)	108.0	172.1	6.0	11.3	48.7
股数 (100万)	0.5	2.7	0.9	3.2	7.2

问题 5
IKO 公司利润占营业额的比率是多少?

24.3%
 36.2%
 41.1%
 44.3%
 无法回答

帮助 下一步

© SHL Group plc 2005

完成 Internet 100% 12:53

在线计算能力筛选测试 - Windows Internet Explorer

http://www.ort.shlsolutions.com/player/InstrumentPlayer.aspx?Candidate_ID=2568075&GuiId=6AC2A62E-F14C

shl PEOPLE PERFORMANCE

测试进程 剩余分钟数 19

截止本财年年度的公司数据					
	Hardlow 上市公司	GRT 上市公司	Xiang 公司	IKO 公司	Aurore 公司
营业额 (100万英镑)	11.4	160.7	2.3	7.3	60.0
利润 (100万英镑)	9.2	-33.9	-1.9	3.0	9.3
资产 (100万英镑)	42.3	640.1	25.2	27.1	130.1
债务 (100万英镑)	9.7	341.0	1.7	8.2	30.8
股价 (便士)	108.0	172.1	6.0	11.3	48.7
股数 (100万)	0.5	2.7	0.9	3.2	7.2

问题 6
如果某人卖出 3,500 股 Hardlow 上市公司的股票, 用该收益可以买入多少股 Aurore 的股票?

2,217
 5,260
 7,761
 15,782
 35,000

帮助 下一步

© SHL Group plc 2005

完成 Internet 100% 12:53

在线计算能力筛选测试 - Windows Internet Explorer

http://www.ort.shlsolutions.com/player/InstrumentPlayer.aspx?Candidate_ID=2568075&Guid=6AC2A62E-F14C

测试进程 剩余分钟数 **18**

部门 (雇员数量)	部门所用时间-每年多少小时			
	可用时间资源	行政/管理	新产品	产品延伸
工程 (5)	10,000	4,000	6,000	432
技术服务 (8)	16,000	3,700	9,540	673
营销 (3)	6,000	3,600	2,000	0
品质管理 (3)	6,000	3,000	2,000	33
开发 (4)	8,000	5,000	1,500	324

问题 7
营销部门的员工平均比品质管理部门员工的工作时间长多少?

149
 159
 169
 179
 189

[帮助](#) [下一步](#)

© SHL Group plc 2005

完成

开始

在线计算能力筛选测试 - Windows Internet Explorer

http://www.ort.shlsolutions.com/player/InstrumentPlayer.aspx?Candidate_ID=2568075&Guid=6AC2A62E-F14C

测试进程 剩余分钟数 **18**

部门 (雇员数量)	部门所用时间-每年多少小时			
	可用时间资源	行政/管理	新产品	产品延伸
工程 (5)	10,000	4,000	6,000	432
技术服务 (8)	16,000	3,700	9,540	673
营销 (3)	6,000	3,600	2,000	0
品质管理 (3)	6,000	3,000	2,000	33
开发 (4)	8,000	5,000	1,500	324

问题 8
如果明年的营销部门的可用时间资源增加 10%，将会有多少新产品推出？

200
 220
 2,000
 2,200
 无法回答

[帮助](#) [下一步](#)

© SHL Group plc 2005

完成

开始

在线计算能力筛选测试 - Windows Internet Explorer

http://www.ort.shlsolutions.com/player/InstrumentPlayer.aspx?Candidate_ID=2568075&GuiId=6AC2A62E-F14C

shl PEOPLE PERFORMANCE

测试进程 剩余分钟数 18

部门 (雇员数量)	部门所用时间-每年多少小时			
	可用时间资源	行政/管理	新产品	产品延伸
工程 (5)	10,000	4,000	6,000	432
技术服务 (8)	16,000	3,700	9,540	673
营销 (3)	6,000	3,600	2,000	0
品质管理 (3)	6,000	3,000	2,000	33
开发 (4)	8,000	5,000	1,500	324

问题 9
如果今年有 4 种产品的延伸，那么每个产品延伸花在技术服务方面的时间比花在品质管理方面的时间平均多多少？

160
 162
 164
 166
 以上都不是

帮助 下一步

© SHL Group plc 2005

完成

开始

在线计算能力筛选测试 - Windows Internet Explorer

http://www.ort.shlsolutions.com/player/InstrumentPlayer.aspx?Candidate_ID=2568075&GuiId=6AC2A62E-F14C

shl PEOPLE PERFORMANCE

测试进程 剩余分钟数 18

(100万欧元)	国际消费品 (IPG) 市场的交易情况						
	1995年	1996年	1997年	1998年	1999年	2000年	
净销售额	1,600	2,158	2,568	2,375	2,508	2,709	
售出商品成本	1,089	1,487	1,661	1,508	1,568	1,716	
销售利润	511	671	886	867	922	993	
固定成本	289	411	582	578	592	596	
交易现金流量	222	260	304	289	331	397	

问题 10
在哪两年之间销售利润增长率最高？

1995年-1996年
 1996年-1997年
 1997年-1998年
 1998年-1999年
 1999年-2000年

帮助 下一步

© SHL Group plc 2005

完成


开始

在线计算能力筛选测试 - Windows Internet Explorer

http://www.ort.shlsolutions.com/player/InstrumentPlayer.aspx?Candidate_ID=2568075&GuiId=6AC2A62E-F14C

实际测试 在线计算能力筛选测试


shl PEOPLE PERFORMANCE

测试进程  剩余分钟数 **17**

问题 11
效率率是指交易现金流量占总成本（售出商品成本及固定成本）的比率。1995 年 IPG 的效率率是多少？

国际消费品 (IPG) 市场的交易情况 (100万欧元)	1995年	1996年	1997年	1998年	1999年	2000年
净销售额	1,600	2,158	2,568	2,375	2,508	2,709
售出商品成本	1,089	1,487	1,661	1,508	1,568	1,716
销售利润	511	671	886	867	922	993
固定成本	289	411	582	578	592	596
交易现金流量	222	260	304	289	331	397

16.1%
 16.3%
 16.5%
 16.7%
 以上都不是

帮助 

© SHL Group plc 2005

完成 Internet 100% 12:55

开始 在线计算能力筛选... 新建 Microsoft W...

在线计算能力筛选测试 - Windows Internet Explorer

http://www.ort.shlsolutions.com/player/InstrumentPlayer.aspx?Candidate_ID=2568075&GuiId=6AC2A62E-F14C

实际测试 在线计算能力筛选测试

shl PEOPLE PERFORMANCE

测试进程  剩余分钟数 **17**

问题 12
1995 年以后，该行业净销售额的年均增长率为 10%。到 1997 年 IPG 净销售额将会超过工业平均增长率多少欧元？

国际消费品 (IPG) 市场的交易情况 (100万欧元)	1995年	1996年	1997年	1998年	1999年	2000年
净销售额	1,600	2,158	2,568	2,375	2,508	2,709
售出商品成本	1,089	1,487	1,661	1,508	1,568	1,716
销售利润	511	671	886	867	922	993
固定成本	289	411	582	578	592	596
交易现金流量	222	260	304	289	331	397

64,000万
 64,800万
 65,600万
 66,400万
 以上都不是

帮助 

© SHL Group plc 2005

完成 Internet 100% 12:56

开始 在线计算能力筛选... 新建 Microsoft W...

在线计算能力筛选测试 - Windows Internet Explorer

http://www.ort.shlsolutions.com/player/InstrumentPlayer.aspx?Candidate_ID=2568075&GuiId=6AC2A62E-F14C

Live Search

实际测试 在线计算能力筛选测试

shl PEOPLE PERFORMANCE

测试进程  剩余分钟数 **16**

今日不丹努尔特鲁姆汇率*					
	收盘点数	今日最高点	今日最低点	今日升/跌	世界银行指数
英镑	70.72	71.06	68.70	+0.42	68.00
美元	43.52	45.16	43.52	-0.80	43.14
欧元	46.61	48.57	44.93	+1.68	44.28
日元	0.40	0.43	0.38	-0.03	0.38

*汇率指每一单位特定货币可兑换的努尔特鲁姆数量

问题 13
某公司按今日最高汇率以 220,000 美元兑换努尔特鲁姆，以偿还公司 1,000 万努尔特鲁姆的债务。交易后，剩余的努尔特鲁姆或未还清的债务大约会是下列哪种情况？

仍欠 65,000
 仍欠 6,500
 没有剩余也不再债务
 剩余 6,500
 剩余 65,000

帮助 

© SHL Group plc 2005

完成 Internet 100% 12:56

开始 在线计算能力筛选... 新建 Microsoft W...

在线计算能力筛选测试 - Windows Internet Explorer

http://www.ort.shlsolutions.com/player/InstrumentPlayer.aspx?Candidate_ID=2568075&GuiId=6AC2A62E-F14C

Live Search

实际测试 在线计算能力筛选测试

shl PEOPLE PERFORMANCE

测试进程  剩余分钟数 **16**

今日不丹努尔特鲁姆汇率*					
	收盘点数	今日最高点	今日最低点	今日升/跌	世界银行指数
英镑	70.72	71.06	68.70	+0.42	68.00
美元	43.52	45.16	43.52	-0.80	43.14
欧元	46.61	48.57	44.93	+1.68	44.28
日元	0.40	0.43	0.38	-0.03	0.38

*汇率指每一单位特定货币可兑换的努尔特鲁姆数量

问题 14
如果明天日元对努尔特鲁姆的汇率下降幅度和今天相同，那么明天 30,000 日元可兑换多少努尔特鲁姆？

10,700
 10,800
 10,900
 11,000
 11,100

帮助 

© SHL Group plc 2005

完成 Internet 100% 12:57

在线计算能力筛选测试 - Windows Internet Explorer

http://www.ort.shlsolutions.com/player/InstrumentPlayer.aspx?Candidate_ID=2568075&GuiId=6AC2A62E-F14C

shl PEOPLE PERFORMANCE

测试进程 剩余分钟数 15

今日不丹努尔特鲁姆汇率*					
	收盘点数	今日最高	今日最低	今日升/跌	世界银行指数
英镑	70.72	71.06	68.70	+0.42	68.00
美元	43.52	45.16	43.52	-0.80	43.14
欧元	46.61	48.57	44.93	+1.68	44.28
日元	0.40	0.43	0.38	-0.03	0.38

*汇率指每一单位特定货币可兑换的努尔特鲁姆数量

问题 15
如果英镑和欧元今后每天对努尔特鲁姆汇率上涨的幅度都和今天上涨的幅度相同，那么多少天以后 1 欧元比 1 英镑兑换的努尔特鲁姆多？

10
 20
 30
 40
 50

帮助 下一步

© SHL Group plc 2005

完成

开始

在线计算能力筛选测试 - Windows Internet Explorer

http://www.ort.shlsolutions.com/player/InstrumentPlayer.aspx?Candidate_ID=2568075&GuiId=6AC2A62E-F14C

shl PEOPLE PERFORMANCE

测试进程 剩余分钟数 15

A.H. Engineering 工程定单			
订单数	涡轮叶片	陀螺仪	起落架活套
Eastlands	13,200	0	145
Luftgut	8,700	21	84
Nippon Air	0	15	0
Russair	2,450	6	30
Frontier	18,500	45	200
单价 (英镑)	415	20,500	287
	英镑	英镑	英镑

与英镑的汇率			
1 英镑 =	1月1日	4月1日	7月1日
欧元	1.44	1.50	1.52
日元	232.11	191.47	175.81
美元	1.70	1.61	1.61

问题 16
如果涡轮叶片的价格上涨到 420 英镑，Russair 的涡轮叶片订单价格上涨的百分率是多少？

0.01%
 1.19%
 1.20%
 12.18%
 19.04%

帮助 下一步

© SHL Group plc 2005

完成

开始

在线计算能力筛选测试 - Windows Internet Explorer

http://www.ort.shlsolutions.com/player/InstrumentPlayer.aspx?Candidate_ID=2568075&GuiId=6AC2A62E-F14C

shl PEOPLE PERFORMANCE

测试进程 剩余分钟数 15

完成

在线计算能力筛选测试 - Windows Internet Explorer

http://www.ort.shlsolutions.com/player/InstrumentPlayer.aspx?Candidate_ID=2568075&GuiId=6AC2A62E-F14C

shl PEOPLE PERFORMANCE

测试进程 剩余分钟数 14

A.H. Engineering 工程定单			
订单数	涡轮叶片	陀螺仪	起落架活塞
Eastlands	13,200	0	145
Luftgut	8,700	21	84
Nippon Air	0	15	0
Russair	2,450	6	30
Frontier	18,500	45	200
单价 (英镑)	415 英镑	20,500 英镑	287 英镑

与英镑的汇率			
1 英镑 =	1月1日	4月1日	7月1日
欧元	1.44	1.50	1.52
日元	232.11	191.47	175.81
美元	1.70	1.61	1.61

问题 17
如果 Frontier 有三种货币的资金可以用来进行支付，那么在 1 月 1 日用哪种货币付款最划算？

英镑
 欧元
 日元
 美元
 无法回答

帮助 下一步

© SHL Group plc 2005

完成

开始

在线计算能力筛选测试 - Windows Internet Explorer

http://www.ort.shlsolutions.com/player/InstrumentPlayer.aspx?Candidate_ID=2568075&GuiId=6AC2A62E-F14C

shl PEOPLE PERFORMANCE

测试进程 剩余分钟数 14

A.H. Engineering 工程定单			
订单数	涡轮叶片	陀螺仪	起落架活塞
Eastlands	13,200	0	145
Luftgut	8,700	21	84
Nippon Air	0	15	0
Russair	2,450	6	30
Frontier	18,500	45	200
单价 (英镑)	415 英镑	20,500 英镑	287 英镑

与英镑的汇率			
1 英镑 =	1月1日	4月1日	7月1日
欧元	1.44	1.50	1.52
日元	232.11	191.47	175.81
美元	1.70	1.61	1.61

问题 18
如果 Nippon Air 在 1 月 1 日同意以英镑购买陀螺仪，并在 1 月 1 日付款，那么这与在 4 月 1 日付款费用上有什么不同（以日元计）？

少付 58,877,025 日元
 少付 12,496,800 日元
 少付 9,897,500 日元
 多付 12,496,800 日元
 多付 58,877,025 日元

帮助 下一步

© SHL Group plc 2005

完成

开始

在线计算能力筛选测试 - Windows Internet Explorer

http://www.ort.shlsolutions.com/player/InstrumentPlayer.aspx?Candidate_ID=2568075&GuiId=6AC2A62E-F14C

shl PEOPLE PERFORMANCE

测试进程 剩余分钟数 14

A.H. Engineering 工程定单			
订单数	涡轮叶片	陀螺仪	起落架活塞
Eastlands	13,200	0	145
Luftgut	8,700	21	84
Nippon Air	0	15	0
Russair	2,450	6	30
Frontier	18,500	45	200
单价 (英镑)	415 英镑	20,500 英镑	287 英镑

与英镑的汇率			
1 英镑 =	1月1日	4月1日	7月1日
欧元	1.44	1.50	1.52
日元	232.11	191.47	175.81
美元	1.70	1.61	1.61

问题 18
如果 Nippon Air 在 1 月 1 日同意以英镑购买陀螺仪，并在 1 月 1 日付款，那么这与在 4 月 1 日付款费用上有什么不同（以日元计）？

少付 58,877,025 日元
 少付 12,496,800 日元
 少付 9,897,500 日元
 多付 12,496,800 日元
 多付 58,877,025 日元

帮助 下一步

© SHL Group plc 2005

完成

开始

在线计算能力筛选测试 - Windows Internet Explorer

http://www.ort.shlsolutions.com/player/InstrumentPlayer.aspx?Candidate_ID=2568075&GuiId=6AC2A62E-F14C

shl PEOPLE PERFORMANCE

测试进程 剩余分钟数 14

A.H. Engineering 工程定单			
订单数	涡轮叶片	陀螺仪	起落架活塞
Eastlands	13,200	0	145
Luftgut	8,700	21	84
Nippon Air	0	15	0
Russair	2,450	6	30
Frontier	18,500	45	200
单价 (英镑)	415 英镑	20,500 英镑	287 英镑

与英镑的汇率			
1 英镑 =	1月1日	4月1日	7月1日
欧元	1.44	1.50	1.52
日元	232.11	191.47	175.81
美元	1.70	1.61	1.61

问题 18
如果 Nippon Air 在 1 月 1 日同意以英镑购买陀螺仪，并在 1 月 1 日付款，那么这与在 4 月 1 日付款费用上有什么不同（以日元计）？

少付 58,877,025 日元
 少付 12,496,800 日元
 少付 9,897,500 日元
 多付 12,496,800 日元
 多付 58,877,025 日元

帮助 下一步

© SHL Group plc 2005

在线计算能力筛选测试 - Windows Internet Explorer

http://www.ort.shlsolutions.com/player/InstrumentPlayer.aspx?Candidate_ID=2568075&GuiId=6AC2A62E-F14C

实际测试 在线计算能力筛选测试

shl PEOPLE PERFORMANCE

测试进程 剩余分钟数 13

年民航客流量 (100,000万乘客)

年份	美国	亚太地区	欧洲地区	世界其它地区
五年前	1.0	0.7	0.3	0.1
现在	1.2	1.0	0.9	0.4

问题 19
如果世界民航乘客增长率保持现在的势头, 5年后一年的乘客大约会是多少?

- 583,000万
- 5,390,000万
- 5,830,000万
- 53,900,000万
- 以上都不是

帮助 下一步

© SHL Group plc 2005

完成

开始 在线计算能力筛选... 新建 Microsoft W...

在线计算能力筛选测试 - Windows Internet Explorer

http://www.ort.shlsolutions.com/player/InstrumentPlayer.aspx?Candidate_ID=2568075&GuiId=6AC2A62E-F14C

实际测试 在线计算能力筛选测试

shl PEOPLE PERFORMANCE

测试进程 剩余分钟数 12

年民航客流量 (100,000万乘客)

年份	美国	亚太地区	欧洲地区	世界其它地区
五年前	1.0	0.7	0.3	0.1
现在	1.2	1.0	0.9	0.4

问题 20
5年前每名乘客在欧洲地区内的平均飞行距离为 1,000 公里。现在这一数字已经下降了 20%。现在的欧洲航线飞行总距离变化的百分比是多少?

- 下了 60%
- 下了 30%
- 没有变化
- 增长了 140%
- 增长了 280%

帮助 下一步

© SHL Group plc 2005

完成

开始 在线计算能力筛选... 新建 Microsoft W...

Internet 100% 13:00



测试进程 剩余分钟数 **10**

问题 21
过去 5 年中，世界民航乘客的增长率是多少？

选项：
 37%
 47%
 57%
 67%
 以上都不是

年民航乘客量 (100,000万乘客)

地区	五年前	现在
美国	1.0	1.2
亚太地区	0.7	1.0
欧洲地区	0.3	0.9
世界其它地区	0.1	0.4

© SHL Group plc 2005

关于我们



中国最先进的大学生求职互动平台

更多海量资料下载，敬请访问www.dajie.com